

MINISTÈRE DE L'ÉCOLOGIE, DE L'ÉNERGIE, DU DÉVELOPPEMENT DURABLE
ET DE LA MER

DIRECTION INTERDÉPARTEMENTALE DES ROUTES SUD-OUEST

**RECRUTEMENT EXTERNE
D'AGENTS D'EXPLOITATION SPÉCIALISÉS DES TPE**

ANNÉE 2009

ÉPREUVE n°2

- **Code de la route**

Durée de l'épreuve : 25 mn








Les réponses seront portées directement sur le présent document.



- *Indiquez votre numéro d'identification*




QCM portant sur les règles du code de la route



Durée 25 minutes (½ point par question)


possibilité de 2 réponses sur certaines questions



	<p>1 Le signal annonce :</p> <ul style="list-style-type: none"> - un passage pour piétons - un ralentisseur - un danger - un endroit fréquenté par des enfants <p style="text-align: right;">A B C D</p>
	<p>2 Ce panneau peut mettre fin à l'interdiction :</p> <ul style="list-style-type: none"> - de klaxonner - de stationner - de s'arrêter <p style="text-align: right;">A B C</p>
	<p>3 Ce panneau indique une voie réservée pour :</p> <ul style="list-style-type: none"> - les cyclistes - les cyclomotoristes <p style="text-align: right;">A B</p>
	<p>4 Sur une route comportant ce panneau, peuvent circuler :</p> <ul style="list-style-type: none"> - les cyclomoteurs - les poids-lourds <p style="text-align: right;">A B</p>
	<p>5 Le panneau à fond jaune indique une signalisation :</p> <ul style="list-style-type: none"> - temporaire - permanente - autoroutière <p style="text-align: right;">A B C</p>
	<p>6 Après ce panneau, je céderai le passage aux véhicules venant :</p> <ul style="list-style-type: none"> - de droite - de gauche <p style="text-align: right;">A B</p>
	<p>7 Par temps de pluie, sur autoroute, la vitesse est limitée :</p> <ul style="list-style-type: none"> - à 90 km/h - à 110 km/h - à 130 km/h <p style="text-align: right;">A B C</p>
	<p>8 Pour dépasser un cyclomotoriste, hors agglomération, je dois m'écarter de :</p> <ul style="list-style-type: none"> - 0,5 m - 1 mètre - 1,5 mètre <p style="text-align: right;">A B C</p>

	<p>9 Le stationnement interdit prend fin à la prochaine intersection</p> <p>- oui A - non B</p>
	<p>10 Après ce panneau, pour stationner, il faut tenir compte:</p> <p>- de la date A - du numéro des immeubles B C D</p>
	<p>11 Une ligne continue jaune, peinte sur la bordure du trottoir signifie :</p> <p>- un stationnement interdit A - un arrêt interdit B - un arrêt autorisé C</p>
	<p>12 Dans une agglomération bien éclairée, je peux circuler en feux de position seuls:</p> <p>- oui A - non B</p>
	<p>13 Par temps de pluie, en plus des feux de croisement, je peux allumer les feux de brouillard :</p> <p>- à l'avant A - à l'arrière B</p>
	<p>14 Le temps de réaction augmente :</p> <p>- avec la consommation de drogue A - avec la consommation d'alcool B - selon l'état des pneumatiques du véhicule C</p>
	<p>15 En règle générale, je peux installer un enfant sur le siège avant s'il est âgé de :</p> <p>- 6 ans A - 8 ans B - 10 ans C - 12 ans D</p>
	<p>16 Un conducteur commet un délit dès que son taux d'alcool atteint</p> <p>- 0,40 mg/litre d'air expiré A - 0,80 mg/litre d'air expiré B</p>

	<p>17 En circulation, un conducteur sanctionné pour l'usage d'un téléphone tenu en main risque un retrait de :</p> <ul style="list-style-type: none"> - 1 point A - 2 points B - 3 points C
	<p>18 Après cette signalisation, la route perd son caractère prioritaire :</p> <ul style="list-style-type: none"> - oui A - non B
	<p>19 Dès ce panneau et sans autre prescription, la vitesse est limitée à :</p> <ul style="list-style-type: none"> - 30 km/h A - 50 km/h B - 70 km/h C
	<p>20 A partir de ce panneau, sont interdits à la circulation :</p> <ul style="list-style-type: none"> - les piétons A - les cyclomotoristes B - les motocyclistes C - les véhicules à moteur non soumis à immatriculation D
	<p>21 Le conducteur qui rejoint une file de véhicules ralentie ou arrêtée, doit prévenir lorsqu'il est le dernier, les autres usagers pouvant arriver derrière lui, en actionnant :</p> <ul style="list-style-type: none"> - les feux de recul A - les feux de détresse B - les feux de brouillard C
	<p>22 Certains tunnels comportent des feux bleus aidant au maintien des distances de sécurité. La distance correcte correspond à :</p> <ul style="list-style-type: none"> - un feu bleu A - deux feux bleus B - trois feux bleus C

	<p>23 Par temps de brouillard, si ma visibilité est inférieure à 50 mètres, ma vitesse maximale autorisée doit être :</p> <ul style="list-style-type: none"> - de 70 km/h A - de 90 km/h B - de 50 km/h C
	<p>24 Le terme véhicule "lent" désigne un véhicule ne pouvant circuler à une vitesse supérieure à :</p> <ul style="list-style-type: none"> - 40 km/h A - 60 km/h B - 50 km/h C
	<p>25 Si je conduis un véhicule de marchandises d'un PTAC de 12 tonnes, je peux dépasser :</p> <ul style="list-style-type: none"> - une bicyclette A - une automobile B - un poids-lourds C
	<p>26 La profondeur minimale des sculptures d'un pneumatique doit être pour une voiture de :</p> <ul style="list-style-type: none"> - 1,6 mm A - 1 mm B - identique à celle d'un pneumatique pour un poids-lourds C
	<p>27 En cas de visibilité inférieure à 50 mètres, les vitesses maximales sont abaissées à 50 km/heure sur l'ensemble des réseaux routier et autoroutier :</p> <ul style="list-style-type: none"> - vrai A - faux B
	<p>28 Si je conduis une camionnette, est-ce que cette signalisation me concerne :</p> <ul style="list-style-type: none"> - oui A - non B
<p>PTAC = Poids Total Maximal Autorisé PV = Poids à Vide</p>	<p>29 La charge utile (CU) d'un véhicule poids-lourd est égale :</p> <ul style="list-style-type: none"> - au PTAC + PV A - au PTAC B - au PTAC - PV C

	<p>30 En règle générale, la largeur maximale d'un véhicule poids-lourd est de :</p> <ul style="list-style-type: none"> - 2,30 m A - 2,50 m B - 2,55 m C
	<p>31 Un examen médical périodique est obligatoire pour les conducteurs de poids-lourd. La périodicité de validation est pour les moins de 50 ans :</p> <ul style="list-style-type: none"> - tous les 3 ans A - tous les 5 ans B - tous les 7 ans C
	<p>32 Ces balises signalent un passage à niveau. Hors agglomération, elles sont espacées de :</p> <ul style="list-style-type: none"> - 100 m A - 25 m B - 50 m C
	<p>33 En règle générale, quel est le PTAC maximal d'un véhicule poids-lourds isolé comportant deux essieux :</p> <ul style="list-style-type: none"> - 3,5 tonnes A - 12 tonnes B - 19 tonnes C
	<p>34 Sur une autoroute comportant 3 voies de circulation par sens, je suis autorisé à emprunter la voie la plus à gauche pour dépasser, si je conduis un véhicule :</p> <ul style="list-style-type: none"> - d'un PTAC supérieur à 3,5 tonnes A - une automobile B - une motocyclette C
	<p>35 Le ou les feux arrière de brouillard peuvent être utilisés lors de pluie intense :</p> <ul style="list-style-type: none"> - oui A - non B
	<p>36 Hors agglomération, lorsque deux véhicules d'un PTAC supérieur à 3,5 tonnes se suivent à la même vitesse, la distance de sécurité minimale entre ces deux véhicules est de :</p> <ul style="list-style-type: none"> - 30 m A - 70 m B - 50 m C - 90 m D

	<p>37 Ce panneau indique à droite une voie :</p> <ul style="list-style-type: none"> - sans issue A - de service B - de détresse C
	<p>38 L'ABS ou ABR est un dispositif de sécurité permettant de :</p> <ul style="list-style-type: none"> - garder le contrôle de la direction du véhicule A - diminuer les distances de freinage B - d'éviter le blocage des roues C
	<p>39 Les informations relatives à l'existence, à la validité et au capital de points d'un permis de conduire, sont communicables :</p> <ul style="list-style-type: none"> - à l'employeur A - à la compagnie d'assurance B - au titulaire du permis C
	<p>40 Ces feux concernent :</p> <ul style="list-style-type: none"> - tous les véhicules A - uniquement les cyclistes B - uniquement les autobus C